

**Příklady kontrolních otázek pro činnosti na železničním spodku a svršku**
*Příklady jsou informativního charakteru a nemusí plně korespondovat s otázkami v písemném testu*
**Zkouška KMB-10 (Část dopravní)**
**Předpis SŽ D1  
ČÁST PRVNÍ**

Dopravní a návěstní předpis pro tratě nevybavené evropským vlakovým zabezpečovačem

	čl. (bod)	Příklady testových otázek
001	1 (2)	Jak se jmenuje předpis státní organizace Správa železnic D1 ČÁST PRVNÍ?
002	9 (2)	Co je to provozuschopnost?
003	9 (7)	Co je to vlečka?
004	10 (2)	Co je to šířá trať?
005	11 (1)	Co se rozumí pod pojmem Dopravna?
006	11 (2)	Co se rozumí pod pojmem Železniční stanice?
007	13 (1)	Co je to Trať se zjednodušeným řízením drážní dopravy?
008	13 (2)	Co je to Přilehlá stanice?
009	22 (1)	Co je to Základní dopravní dokumentace (ZDD)?
010	22 (2)	Co je to Staniční řád?
011	22 (4)	Prováděcí nařízení je vydáváno pro:
012	24 (3)	Co je to Volný schůdný a manipulační prostor?
013	24 (5da)	Jaká musí být vzdálenost od vnitřní hrany kolejnice sypkého materiálu složeného vedle kolejí?
014	24 (5db)	Materiál složený v koleji musí být uložen tak, aby při vnitřních hranách kolejnic byl volný prostor:
015	24 (5dc)	Které předměty se nesmějí ukládat ve vzdálenosti menší než 130 cm od vnitřní hrany kolejnice?
016	26 (2)	Kdo je to Výpravčí?
017	26 (5)	Kdo je to Výhybkář?
018	26 (10)	Kdo je to Závorář?
019	38 (1)	Vjezd a vstup do prostor veřejnosti nepřístupných je:
020	38 (2)	Prostory SŽ veřejnosti nepřístupné jsou všechny prostory, s výjimkou:
021	44 (2)	Co je to Záhlaví?
022	44 (7)	Co je to Zhlaví?
023	44 (13)	Co je to Spojovací kolej?
024	44 (15)	Co se rozumí pod pojmem Hlavní kolej?
025	44 (27)	Co je to Kolejová spojka?
026	44 (31)	Co se považuje za Souběh kolejí?
027	47 (1)	Co je to výhybka?
028	47 (4)	Co je to výměna?
029	126 (1)	Jak se dává návěst Stůj, zastavte všemi prostředky?
030	127 (6)	Kde je při krytí koleje dovoleno umístit přenosné návěstidlo s návěstí Stůj?
031	127 (7)	Při krytí koleje je povoleno umístit přenosné návěstidlo s návěstí Stůj na stožár návěstidla:
032	128	Jak se dává návěst Výstraha?
033	129 (1)	Návěst Pozor se dává:
034	129 (9)	Návěst Požární poplach upozorňuje:
035	131 (1)	K čemu slouží námezník?
036	131 (1)	Návěst Hranice koleje upozorňuje:
037	131 (3)	Co stanovuje Návěst Konec vlakové cesty a návěst Hranice koleje?
038	131 (4)	Co je to Koncovník?
039	132 (1)	Kde se umísťuje návěstidlo Hraničník?
040	132 (1)	Jakou návěst poskytuje návěstidlo Hraničník?
041	159 (4)	Co je to Návěstidlo pro pomalou jízdu?
042	159 (5)	Co je to Tabule Z?
043	159 (6)	Co je to Tabule K?
044	163 (1)	Co se rozumí pod pojmem Varovné návěstidlo?
045	163 (2)	Kde se umísťuje Světelný výstražný terč s jedním zábleskovým světlem?
046	163 (3)	Co je to Varovné návěstidlo s jedním zábleskovým světlem?
047	163 (4)	Co je to Zařízení automatického varování?
048	164 (1)	Co je to Výstražný kolík s dočasnou platností pro pracovní místa?
049	166 (3)	Návěst Vyklidte pracovní místo jsou:
050	312 (1)	Jak se zachová zaměstnanec pokud zjistí závadu ohrožující bezpečné provozování drážní dopravy?
051	395 (1)	Po dobu provozování dočasně zřízeného přejezdu musí být splněna mj. tato podmínka:
052	451 (2)	Každý zaměstnanec je povinen ohlásit všechny mimořádnosti:

**Předpis SŽ D3**

Předpis pro zjednodušené řízení drážní dopravy

	čl. (bod)	Příklady testových otázek
053	1 (1)	Jak zní název předpisu SŽ D3?

**Předpis SŽ D4**

Předpis pro řízení drážní dopravy na tratích vybavených radioblokem

	čl. (bod)	Příklady testových otázek
054	1 (1)	Jak zní název předpisu SŽ D4?
055	28 (1)	Dispečer RB je povinen zajistit, aby rozříznutí výhybky bylo ohlášeno odpovědnému zamestanci OSPD:



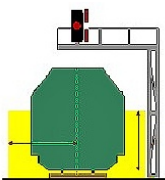

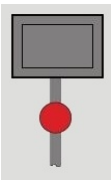

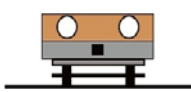





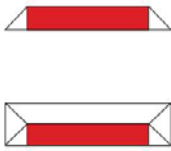
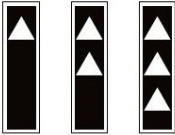






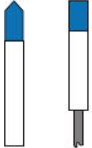

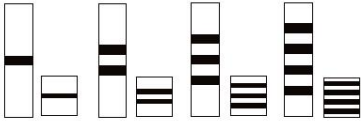
## Příklady kontrolních otázek pro činnosti na železničním spodku a svršku

Příklady jsou informativního charakteru a nemusí plně korespondovat s otázkami v písemném testu

### Zkouška KMB-10 (Část dopravní)

#### Předpis SŽ D1 ČÁST PRVNÍ

Dopravní a návěstní předpis pro tratě nevybavené evropským vlakovým zabezpečovačem

Příklady testových otázek					
056 057 058 059 060	<p><b>čl. 126</b></p>  <p>PRAPOREK (jakýkoliv předmět nebo jen ruka)</p> <p>ruční denní návěst</p> <p>Uvedte správný název návěsti.</p>	<p><b>čl. 132</b></p>  <p>Jak se jmenuje tato návěst?</p>	<p><b>čl. 24</b></p>  <p>Žluté je vyznačen:</p>	<p><b>čl. 134</b></p>  <p>Co předvěstí tato návěst?</p>	<p><b>čl. 127</b></p>  <p>Tato návěst příkazuje:</p>
061 062 063 064 065	<p><b>čl. 165</b></p>  <p>Jak se jmenuje toto návěstidlo?</p>	<p><b>čl. 149</b></p>  <p>Uvedte správný název návěsti</p>	<p><b>čl. 137</b></p>  <p>Toto návěstidlo informuje:</p>	<p><b>čl. 101</b></p>  <p>Co znamená tato návěst?</p>	<p><b>čl. 63</b></p>  <p>Co indikuje toto návěstidlo?</p>
066 067 068 069 070	<p><b>čl. 129</b></p>  <p>pišťalka, lokomotivní houkačka</p> <p>Uvedte správný název návěsti.</p>	<p><b>čl. 142</b></p>  <p>Jak se jmenuje toto návěstidlo?</p>	<p><b>čl. 131</b></p>  <p>Co znamená tato návěst?</p>	<p><b>čl. 130</b></p>  <p>Jak se jmenuje tato návěst?</p>	<p><b>čl. 160</b></p>  <p>Co znamená tato návěst?</p>
071 072 073 074	<p><b>čl. 133</b></p>  <p>Uvedte správný název návěsti.</p>	<p><b>čl. 139</b></p>  <p>Co znamená tato návěst?</p>	<p><b>čl. 147</b></p>  <p>ruční denní návěst    svítlna s bílým světlem    ruční noční návěst    lokomotivní houkačka    slyšitelná návěst</p> <p>Uvedte správný název návěsti.</p>	<p><b>čl. 194</b></p>  <p>Co stanovuje tato návěst?</p>	
075 076 077 078	<p><b>čl. 164</b></p>  <p>Jak se jmenuje toto návěstidlo?</p>	<p><b>čl. 211</b></p>  <p>Co znamená tato návěst?</p>	<p><b>čl. 161</b></p>  <p>Jak se nazývá toto návěstidlo?</p>	<p><b>čl. 130</b></p>  <p>Na co upozorňuje tato návěst?</p>	