

Příklady kontrolních otázek pro činnosti v železniční geodézii
Příklady jsou informativního charakteru a nemusí plně korespondovat s otázkami v písemném testu
Zkouška G-02 (Část dopravní)
**Předpis SŽ D1
ČÁST PRVNÍ**

Dopravní a návěstní předpis pro tratě nevybavené evropským vlakovým zabezpečovačem



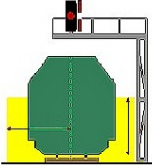
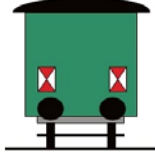






	čl. (odst.)	Příklady testových otázek
001	1 (1)	Jaké označení má základní vnitřní předpis o provozování dráhy Správy železnic, státní organizace?
002	9 (2)	Co se rozumí pod pojmem Provozoschopnost dráhy?
003	11 (2)	Co se rozumí pod pojmem Železniční stanice?
004	17 (5)	Za jakých podmínek se používá Denní návěst?
005	17 (7)	Co se rozumí pod pojmem Snížená viditelnost?
006	17 (16)	Co se rozumí pod pojmem Zábleskové světlo?
007	22 (1)	Co se rozumí pod pojmem Základní dopravní dokumentace (ZDD)?
008	22 (2)	Co se rozumí pod pojmem Staniční řád (SŘ)?
009	23 (2)	Co se rozumí pod pojmem Telekomunikační zařízení?
010	33 (2)	Kdo se musí seznámit s ustanovením ZDD?
011	37c	Za jakých podmínek je povolen vstup do služebních místností Správy železnic cizím osobám?
012	38 (1)	Vjezd a vstup do prostor veřejnosti nepřístupných je:
013	38 (2)	Prostory Správy železnic veřejnosti nepřístupné jsou všechny prostory s výjimkou:
014	44 (2)	Co je to Zhlaví?
015	44 (7)	Co je to Zhlaví?
016	77 (6)	Komu je dovoleno dávat pokyny návěstmi nebo umísťovat Přenosná návěstidla?
017	124 (15)	Co je to Staničník?
018	126 (1)	Každý zaměstnanec je povinen dát návěst "Stůj, zastavte všemi prostředky", když:
019	126 (2)	Jak se dává návěst Stůj, zastavte všemi prostředky?
020	126 (3)	Co znamená návěst tři krátké zvuky několikrát opakované dávané píšťalkou nebo houkačkou?
021	137 (1)	Jak vypadá návěstidlo Staničník a k čemu slouží?
022	163 (1)	Co je to Varovné návěstidlo?
023	163 (2)	Co je to Světelný výstražný terč?
024	163 (3)	Kde se umísťuje Varovné návěstidlo s jedním zábleskovým světlem?
025	163 (5)	Kde se umísťuje Výstražný kolík s dočasnou platností pro pracovní místa?
026	166 (2)	Jaká slyšitelná návěst je vyjádřena jedním dlouhým zvukem houkačky?
027	166 (3)	Jaká slyšitelná návěst je vyjádřena dvěma dlouhými zvuky houkačky?
028	166 (4)	Jaká slyšitelná návěst je vyjádřena opakovanými dlouhými zvuky houkačky?
029	383 (10)	Kde se umísťuje Výstražný kolík.
030	431 (5)	Za snížené viditelnosti je jízda lehkých kolejových prostředků:

Příklady kontrolních otázek pro činnosti v železniční geodézii

Příklady jsou informativního charakteru a nemusí plně korespondovat s otázkami v písemném testu

Zkouška G-02 (Část dopravní)**Předpis SŽ D1 ČÁST PRVNÍ**

Dopravní a návěstní předpis pro tratě nevybavené evropským vlakovým zabezpečovačem

Příklady testových otázek					
031 032 033 034 035	<p>čl. 126</p>  <p>Uvedte správný název návěsti.</p>	<p>čl. 135</p>  <p>Který z nabízených obrázků zobrazuje návěst Konec nástupiště?</p>	<p>čl. 24</p>  <p>Zeleně je vyznačen:</p>	<p>čl. 149</p>  <p>Co znamená tato návěst?</p>	<p>čl. 388</p>  <p>Který z nabízených obrázků zobrazuje návěst Hranice pro návrat vozidel ze širé trati?</p>
036 037 038 039 040	<p>čl. 165</p>  <p>Co znamená tato návěst?</p>	<p>čl. 139</p>  <p>Který z nabízených obrázků zobrazuje návěst Sklonovník?</p>	<p>čl. 137</p>  <p>Co znamená tato návěst?</p>	<p>čl. 101</p>  <p>Co znamená tato návěst?</p>	<p>čl. 158</p>  <p>Který z nabízených obrázků zobrazuje návěst Rychlostník?</p>